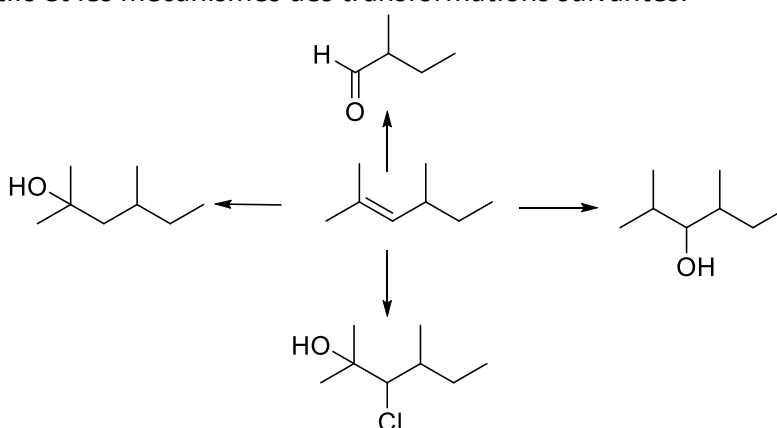


Chimie Générale Avancée II: Partie Organique

Exercices - Séance n°7 – 4 avril 2025

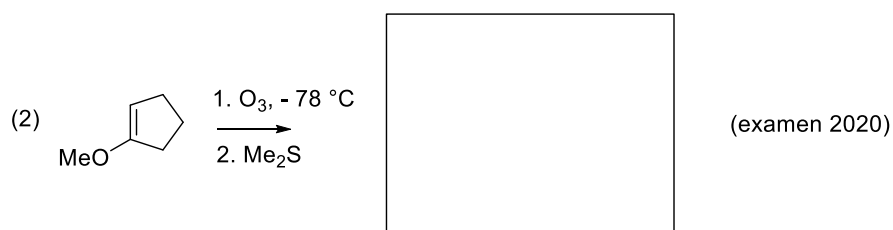
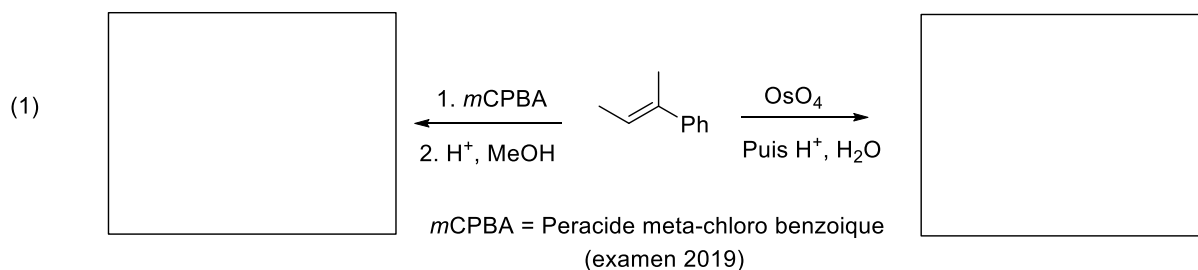
Exercice 1 (20 points)

Donner les réactifs et les mécanismes des transformations suivantes.



Exercice 2 (16 points, examen 2019+2020)

Indiquer les produits obtenus sous les conditions suivantes et proposer un mécanisme pour les transformations. Justifier les sélectivités observées si nécessaire.



Exercice 3 (17 points, examen 2021)

Indiquer les produits obtenus sous les conditions suivantes et proposer un mécanisme pour les transformations. Justifier les sélectivités observées si nécessaire.

